
















Epreuve 5 : Un peu plus près des étoiles

Ecris dans chaque étoile un nombre entier de 1 à 9.

| | | | |
|---|--|---|---|
|  |  |  |  |
|  |  |  |  |
|  |  |  |  |
|  |  |  | |

Attention :

- la somme des nombres de chaque ligne est donnée dans le carré à droite de cette ligne ;
- la somme des nombres de chaque colonne est donnée dans le triangle en bas de cette colonne ;
- on ne peut utiliser qu'une seule fois le même nombre ;
- le 4 et le 6 sont déjà placés.