













**Epreuve 5 : Den Sternen ein wenig näher**

			<input type="text" value="14"/>
			<input type="text" value="13"/>
			<input type="text" value="18"/>
			

Schreibe in jeden Stern eine Zahl zwischen 1 und 9.

**Beachte:**

- die Summe der Zahlen jeder Zeile ist in dem Kästchen rechts neben der Zeile angegeben ;
- die Summe der Zahlen jeder Spalte ist in dem Dreieck unter der Spalte angegeben ;
- jede Zahl darf nur ein Mal benutzt werden ;
- die 4 und die 6 wurden schon eingesetzt.