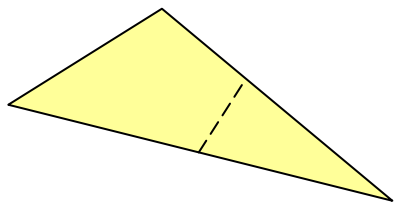


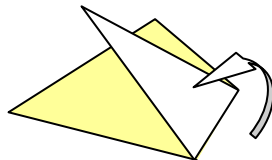
## Epreuve 8 : Plions




En pliant un triangle une seule fois sur lui-même, Damien remarque qu'il peut obtenir d'autres polygones.



Le triangle



Il le plie.



Il colle et trace le contour.  
Il obtient un polygone à 7 côtés.

Combien de côtés peuvent avoir les figures de Damien ?

Colle un exemple pour chaque possibilité et trace le contour.

